

班别：_____

学号：_____

姓名：_____

地理复习第3课 方向、比例尺和等高线地形图

【2015年 广州地理真题】

31. 初二（8）班同学准备组织一次登山，老师拿出一张等高线地形图（如图17）进行指导。结合所学知识，完成下列问题。

(1) 老师强调图中有一个悬崖，很危险，希望大家上山时一定要注意。请你判断该处为_____地。（填字母）

(2) 图中等高距是_____米，最高峰的海拔可能是_____。

- A. 640米 B. 653米
C. 630米 D. 660米

(3) 沿图中的虚线方向攀登最高峰，最省力的路线是_____。到达山顶后，大家想找个开阔地方进行游戏活动，地点应该选在_____地（填字母）。

(4) 上山时，同学们听到泉水叮咚响，最有可能有泉水的地方是_____地（填字母），理由是_____。

(5) 此处有个盆地，它位于_____处（填字母），从D处往_____方向走可以到达。

(6) 量得EF两地间的图上距离是3厘米，则实地距离是_____米。

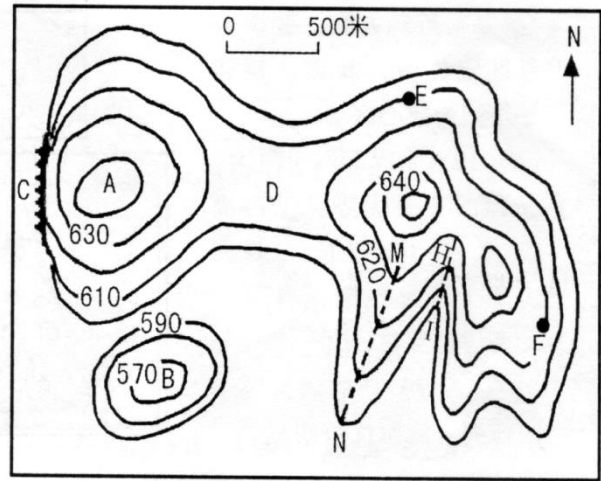


图17 某地等高线示意图

【2016年 广州地理真题】

31. 图22为某区域等高线示意图，一旅游团进入该地探险旅游。结合所学知识，完成下列问题。

(1) 图中等高距是_____米，该区域以_____（盆地/丘陵/平原）地形为主。

(2) 驴友们从乙村出发登上P峰，该峰海拔约_____米。

- A. 200 B. 310
C. 460 D. 500

(3) 驴友们沿图中AP或BP两条路线爬山，更省力的是路线_____，判断依据是_____。

(4) 该区域有一攀岩训练场，攀岩训练场应该设在_____处（填写字母）。

(5) 傍晚，驴友们打算到甲村住宿，乙村在甲村的_____方向。量得甲村和乙村的图

上距离为5厘米，则实际距离为_____千米。

(6) 如果在C地拟建一座工厂，有人建议建化工厂，也有人建议建自来水厂。你认为拟建_____（工厂）合理。



图22 某区域等高线示意图

【2017年 广州地理真题】

31. 读图 11，完成下列问题。

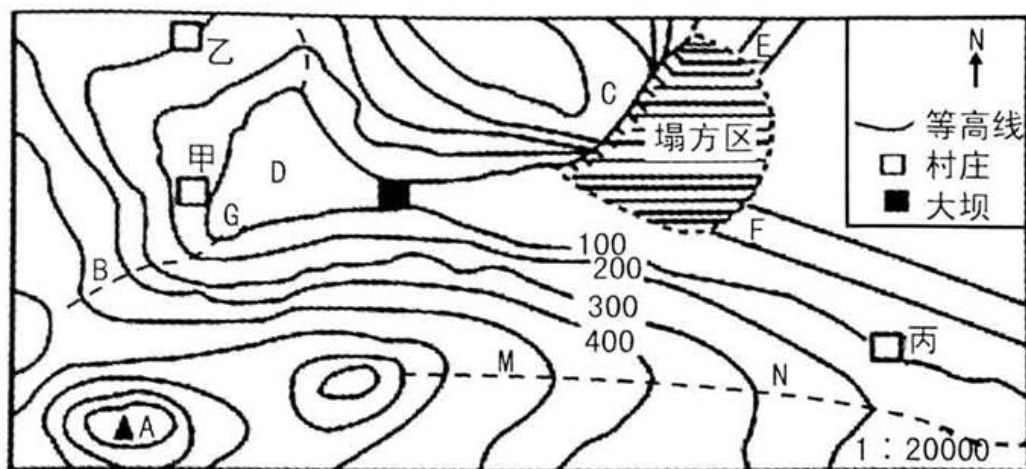


图 11 某地震灾区的等高线地形图

- (1) 写出图中山体部位的名称：A _____，C _____。
- (2) D 处地形为 _____ (高原/盆地)，若持续降水，甲村庄有可能被淹没，甲村村民要向 _____ (方向) 迁移到乙村。
- (3) 图中等高距为 _____ 米，乙村与丙村的相对高度是 _____ 米。
- (4) BG 和 MN 中，表示山脊的是 _____；可能有河流发育的是 _____，判断依据是 _____。
- (5) 地震塌方区的公路受阻，测得 EF 图上距离为 2 厘米，则实地距离为 _____ 米。

【2018年 广州地理真题】

31. 阅读图文材料，完成下列要求。

日本中部有一条经典观光路线——“立山黑部阿尔卑斯路线”，其中在日本海沿岸地势陡峭的地方，形成一段“雪墙公路”身处其中有抬头仅见一线蓝天的震撼之感。

- (1) 立山黑部地形以 _____ 为主，最高峰的海拔范围是 _____ 米。
- (2) 图上量得观光路线约 4.5 厘米，则实地距离为 _____ 千米。
- (3) “雪墙公路”景观最可能位于图中 _____ (甲/乙/丙/丁) 地，判断依据是该地靠近日本海，且等高线 _____ (密集/稀疏)，坡度 _____，处于冬季风的迎风坡，降雪大。
- (4) 如果要在山顶附近修建一个供游人休憩的广场，应该选择图中 _____ (甲/乙/丙/丁) 地。
- (5) 每年夏季积雪融化后，图中可能形成河流的是 _____ (A/B) 处，理由是 _____。该河流的流向大致为 _____。

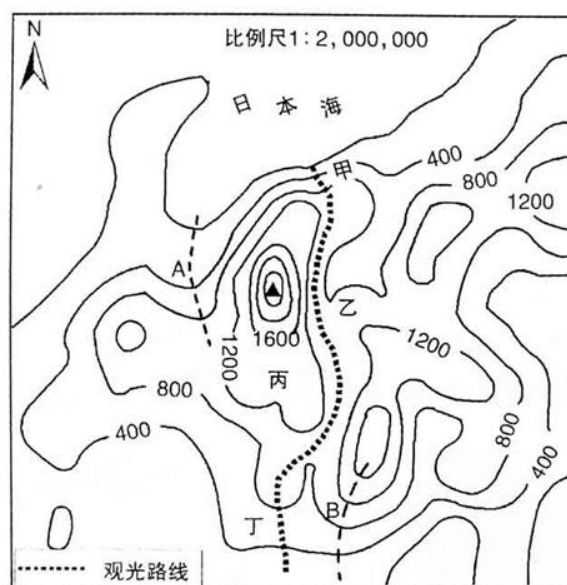


图11日本立山黑部等高线地形图

【2019年 广州地理真题】

31. 阅读图文材料，完成下列问题。

浙南闽北被称为“廊桥王国”，拥有各类廊桥约500座。廊桥又称风雨桥，是在桥上加盖亭台楼阁等廊屋的桥梁。

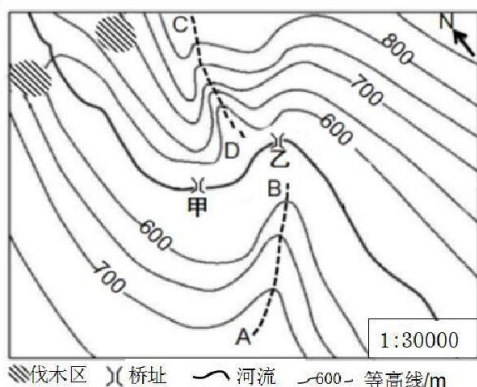


图19 浙闽地区某地地形示意



图20 廊桥景观

- (1) 浙南闽北中的“闽”是_____省的简称。
- (2) 图19中的等高距为_____米，所示区域地形主要以_____为主，适宜发展_____（种植业/林业）。
- (3) 当地人充分利用自然条件，在伐木区把木料砍伐下来后，让木料顺着河流的流向_____（自东北向西南/自北向南）漂流至甲地，建造廊桥。
- (4) 在桥上加盖亭台楼阁等廊屋的主要目的是（ ）
A. 保护梁柱、桥面等不受风沙侵蚀 B. 当地经常出现暴风雪天气，起到躲避风雪的作用
C. 可供行人歇脚、躲避风雨，起到“风雨亭”的作用 D. 为了拜祭天后（妈祖）
- (5) AB、CD处，属于山谷的是_____，判读依据是_____。
暴雨后，该山谷容易引发的_____（地质灾害），曾把_____（甲/乙）处的廊桥冲掉，后来人们便在其上游重建了一座廊桥。

地理作业

必做题：完成该试卷，用红笔订正，上完课的第二天下午放学后交齐。

选做题：完成《考点集训》专讲3 地图 P6-8 其中第6、7、8（有误）和17题不用做。

老师寄语：人生能有几回搏，此时不搏何时搏！

地理复习第3课 比例尺、方向和等高线地形图 参考答案

【2015年 广州地理真题】

31. (1) C (2) 10 B (3) MN D
(4) H/I H/I 处为山谷，山谷中间地势低，容易集水形成河流
(5) B 西南 (6) 1500

【2016年 广州地理真题】

31. (1) 50 丘陵 (2) B
(3) BP BP 路线经过的等高线比较稀疏，坡度较缓，容易攀爬
(4) D (5) 东南 25 (6) 自来水厂

【2017年 广州地理真题】

31. (1) 山峰(山顶) 陡崖 (2) 盆地 北(偏北) (3) 100 200
(4) MN BG BG 为山谷，山谷中间地势低，容易集水形成河流 (5) 400

【2018年 广州地理真题】

32. (1) 山地 2400—2800 (2) 90 (3) 甲 密集 陡(大) (4) 丙
(5) A A 处等高线向海拔高处凸出，为山谷，容易集水成河 自南向北

【2019年 广州地理真题】

31. (1) 福建 (2) 50 山地 林业
(3) 自北向南 (4) C
(5) CD CD 处等高线的弯曲部分向高处凸出，为山谷 泥石流 乙