

班别: \_\_\_\_\_

学号: \_\_\_\_\_

姓名: \_\_\_\_\_

## 地理复习第 8 课 中国的地形和气候

### 【2015 年 广州地理真题】

近年来,每到一年中最冷的时候,南方是否需要集中供暖的话题一直被争论不休。读图 10,回答 19~21 题。

19. 图中南北供暖线与以下哪条地理界线最为接近

- A. 秦岭——淮河一线
- B. 第一、第二级阶梯分界线
- C. 400mm 年等降水量线
- D. 暖温带、中温带分界线

20. 下列关于南方地区没有推广集中供暖的解释最不可信的是 ( )

- A. 南方煤炭资源不丰富,供暖成本高
- B. 南方冬季温和、时间短
- C. 南方以山地、丘陵地形为主,长途管道建设难度大
- D. 南方经济发展水平较低,大多数家庭难以承受集中供暖的费用

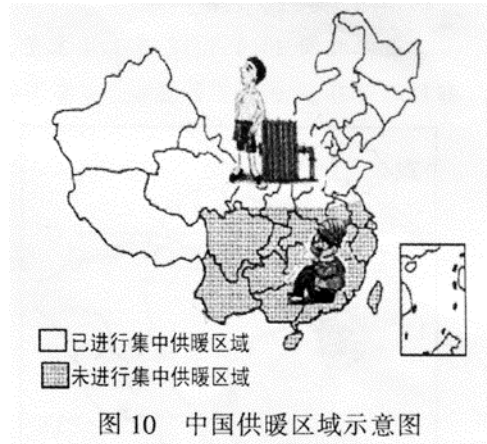


图 10 中国供暖区域示意图

2014 年 12 月 26 日,被称为“穿越喀斯特地貌”过山车的贵广高铁正式通车,读图 11,回答 22~23 题。

22. 贵广高铁经过的地形区是 ( )

- A. 黄土高原
- B. 云贵高原
- C. 四川盆地
- D. 长江中下游平原

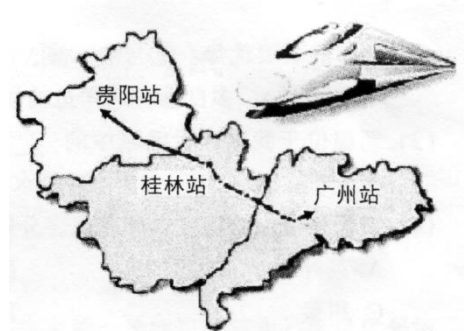


图 11 贵广高铁路线示意图

### 【2016 年 广州地理真题】

读图 12,回答 19 和 20 题。

19. 图中山脉 ① 表示的是 ( )

- A. 大兴安岭
- B. 昆仑山
- C. 喜马拉雅山
- D. 秦岭

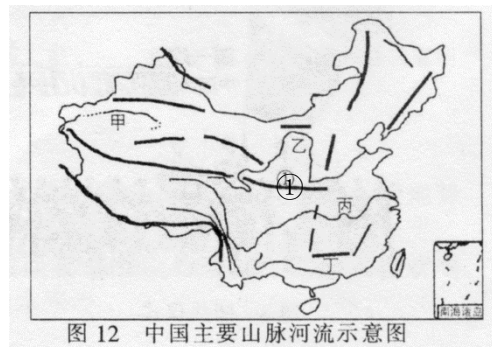
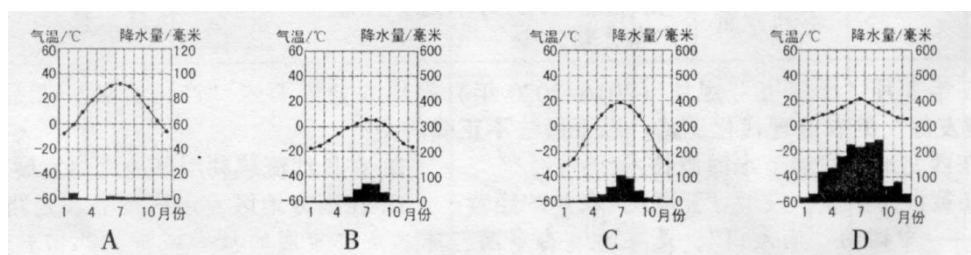


图 12 中国主要山脉河流示意图

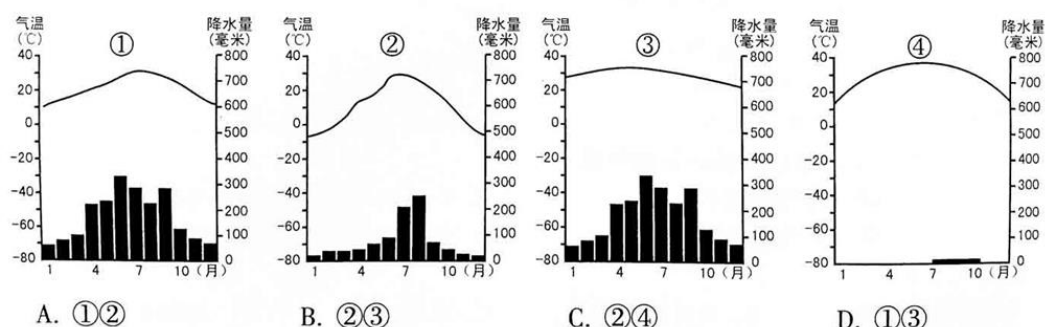
2015 年 9 月 16 日,杭州成为我国第三个承办“亚运会”的城市;11 月 24 日中东欧 16 国领导人在苏州太湖会晤;12 月 16 日,第二届世界互联网大会在浙江省乌镇举行。读图回答 23~24 题。

23. 杭州、苏州和乌镇都位于长江三角洲地区。属于亚热带季风气候,下图能反映该气候特征的是



**【2017年 广州地理真题】**

23. 2016年12月，广州网友上传了北京雪景图和广州鲜花盛开图，并附文“别人看雪花，我们看鲜花”。下列能正确反映广州和北京气候特征的是（ ）



33. 2016年是长征胜利80周年。长征历程两万五千里，红军先后走过了10多个省，跨越了近百条江河，征服了约40座名山险峰。读图14至图16，完成下列问题。

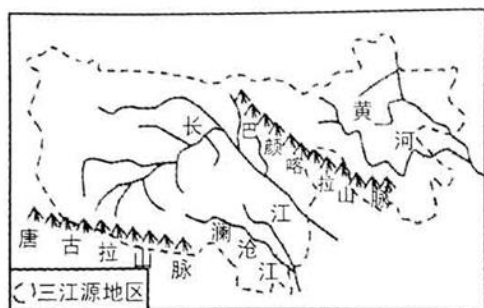


图14 三江源地区




图15 陕西窑洞

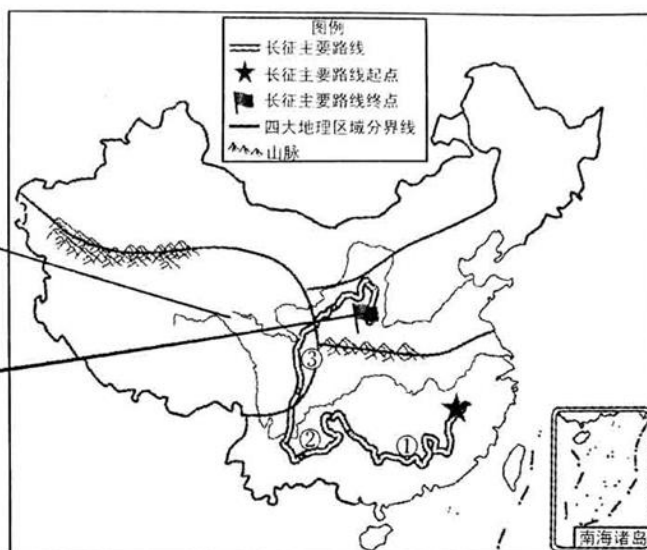


图16 长征主要路线示意图

- (1) 长征主要路线的起点位于我国四大地理区域中的\_\_\_\_\_地区，该地区气候\_\_\_\_\_（干冷/湿热）。
- (2) 长征路线从①到②跨越了我国地势第\_\_\_\_\_级阶梯和二级阶梯。
- (3) 红军多次横渡长江，据图14，长江、\_\_\_\_\_（填河流名称）、\_\_\_\_\_（填河流名称）的源区总称为三江源地区，我国设立三江源自然保护区，采取\_\_\_\_\_措施保护该区域生态环境。（单选）
  - A. 退耕还草      B. 修建梯田      C. 修建水库      D. 修建公路
- (4) 长征主要路线的终点位于\_\_\_\_\_高原，该高原土质疏松、植被破坏严重，容易引起\_\_\_\_\_（环境问题）。
- 5) 到达终点后，红军看到当地传统民居是\_\_\_\_\_。今天重走长征之路，可以在终点尝到的陕西特色美食是\_\_\_\_\_（单选，填序号）。



**【2018年 广州地理真题】**

2018年4月，国务院批复了《河北雄安新区规划纲要》，雄安新区要重点承接北京非首都功能和人口转移。读图7，完成18-20题。



图7 雄安新区位置示意图

18. 下列对雄安新区地形地势描述正确的是 ( )

- A. 地处华北平原，我国地势第三级阶梯
- B. 地处黄土高原，我国地势第二级阶梯
- C. 地处东北平原，我国地势第一级阶梯
- D. 地处内蒙古高原，我国地势第二级阶梯

33. 阅读图文材料，完成下列要求。

2017年9月29日兰渝铁路全线建成通车，客车运行时间由21小时缩短为12小时。

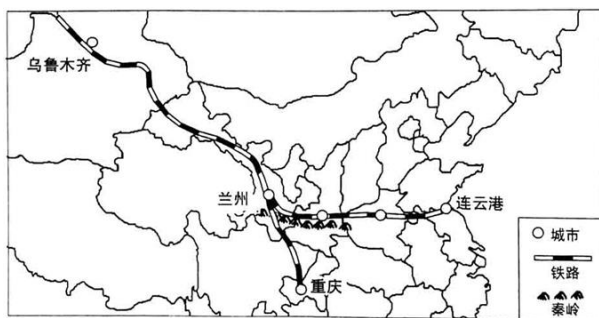


图14 兰渝铁路示意图

- (2) 兰渝铁路堪称“地质博物馆”，它从北到南穿越黄土高原、\_\_\_\_\_山脉、\_\_\_\_\_盆地，所经地区地质复杂多变，容易发生地震、\_\_\_\_\_ (寒潮/泥石流) 等地质灾害。
- (4) 新疆有“早穿皮袄午穿纱”的说法，反映了当地\_\_\_\_\_ (多风沙/昼夜温差大) 的特点。在吐鲁番可见到晾房，其通透的墙体设计有利于葡萄风干，反映了当地\_\_\_\_\_的气候特点。新疆的主要气候类型是\_\_\_\_\_气候。

**【2019年 广州地理真题】**

2018年12月28日，川藏铁路成雅段（成都-雅安）开通运营。读图12~图14，完成22~24题。

22. 川藏铁路依次经过的地形区是 ( )

- A. 四川盆地—横断山脉—青藏高原
- B. 四川盆地—云贵高原—东南丘陵
- C. 四川盆地—柴达木盆地—青藏高原
- D. 四川盆地—黄土高原—东北平原

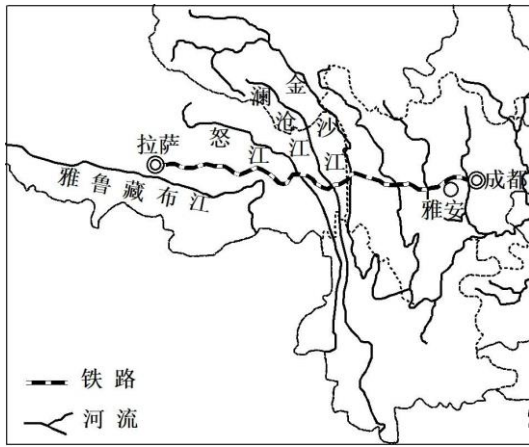


图 12 川藏铁路示意

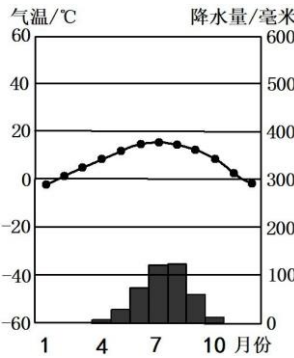


图 13 拉萨气候直方图

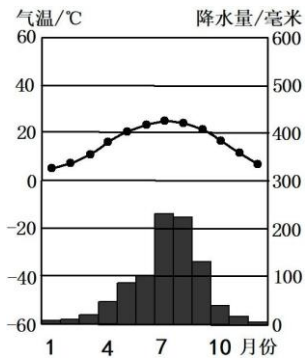


图 14 成都气候直方图

23. 据图 13 和图 14，关于拉萨和成都气候的说法正确的是 ( )
- A. 拉萨气温年较差比成都大      B. 成都冬季温暖干燥，适合避寒
- C. 拉萨海拔高，四季降水少      D. 影响两地气候差异的因素是纬度位置
24. 在川藏铁路沿途看到的景象真实的是 ( )
- A. 山高谷深，山重水复，桥梁隧道众多      B. 穿着藏袍骑着骆驼的人
- C. 滑坡、崩塌、台风现象常常可见      D. 拉萨黄沙漫天，晚上不见繁星

### 参考答案

【2015 年 广州地理真题】 19. A    20. D    22. B

【2016 年 广州地理真题】 19. D    23. D

【2017 年 广州地理真题】 23. A

33. (1) 南方    湿热    (2) 三    (3) 黄河    澜沧江 (两河流名称填写位置可互换)    A  
 (4) 黄土    水土流失    (5) 窑洞    ② (写肉夹馍也可得分)

【2018 年 广州地理真题】 18. A

33. (2) 秦岭    四川    泥石流    (4) 昼夜温差大    干燥/干旱    温带大陆性

【2019 年 广州地理真题】 22. A    23. B    24. A

### 地理课后作业

必做题：专讲 12 完成第 1、2、3、4、10、11、12 和 16 题，其他先不用做。  
 选做题：《赢在中考》P94-96 的 2 道典例示范和 5 道对接练习。

### 老师寄语

长风破浪会有时，直挂云帆济沧海。