

姓名: \_\_\_\_\_

### 高三地理 一日一练 (10月6日)

得分: \_\_\_\_\_

图1为沿某经线的大气运动示意图,图2为图1中甲气压带及其南北两侧风带的风向图。读图,回答下题。

1. 图示气压带位置反映的时段里( )

- A. 巴西高原草木枯黄
- B. 我国东北地区昼短夜长
- C. 密西西比河进入枯水季节
- D. 北印度洋自东向西的船只顺风顺水

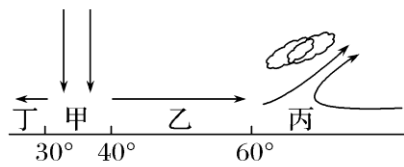


图1

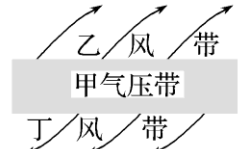


图2

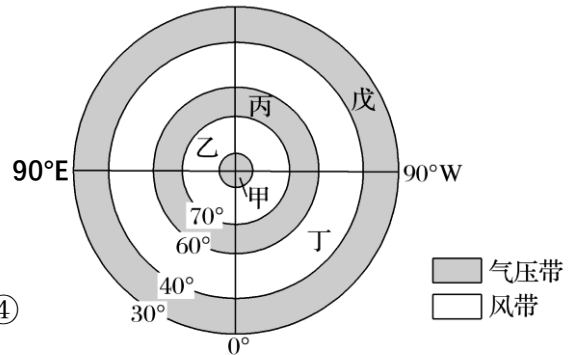
(2020·临沂高三月考) 下图示意“某日某半球局部地区大气环流图”。完成2-4题。

2. 图示该日处于北半球的( )

- A. 春季
- B. 夏季
- C. 秋季
- D. 冬季

3. 图中丁、乙两处风带的风向依次是( )

- ①西北风 ②西南风 ③东北风 ④东南风
- A. ①④
- B. ②③
- C. ①②
- D. ③④

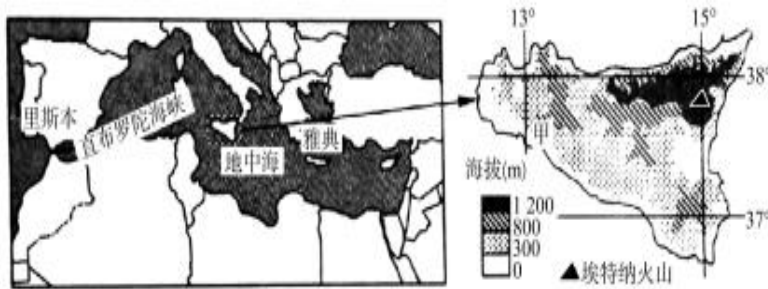


4. 图示季节( )

- A. 旧金山受戊控制, 森林火灾频发
- B. 长江流域正值伏旱天气
- C. 新西兰受丁影响, 气候温和湿润
- D. 澳大利亚北部盛行东南风

5. 阅读下列图文, 回答下列问题。

西西里岛是地中海最大的岛屿, 面积为 2.57 万平方千米, 人口约有 527 万。西西里岛是典型的地中海气候, 但岛上不同地区气温、降水、风力状况明显不同; 沿海地区尤其是西南部, 夏季更为酷热。岛上发展林业的自然条件较好, 但时常受森林火灾的困扰。下图示意西西里岛位置及地形分布状况。



西西里岛时常受森林火灾困扰, 试对此作出解释。(6分)