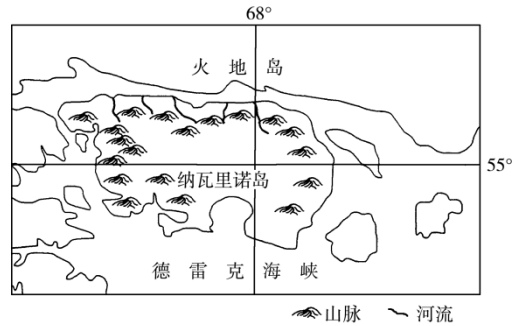


(2020·湖北联考)纳瓦里诺岛是智利的岛屿,位于火地岛的南面。岛屿面积2473平方千米,人口1677人(2012年),人口稀少。岛上最高点海拔1195米,岛的北部年降水量467毫米,南部年降水量800毫米。最热月平均气温为9.6℃,最冷月平均气温为1.9℃。岛上有一些农场。下图示意纳瓦里诺岛位置。据此完成1-2题。



1. 纳瓦里诺岛南部降水多于北部的原因可能是()

- A. 位于盛行西风迎风坡,多地形雨
- B. 濒临德雷克海峡,有暖流流经
- C. 受极锋影响,多锋面气旋雨
- D. 山脉西北走向,利于西风深入

2. 纳瓦里诺岛最热月平均气温较低的主要影响因素是()

- A. 海陆位置
- B. 纬度位置
- C. 气压带与风带
- D. 地形地势

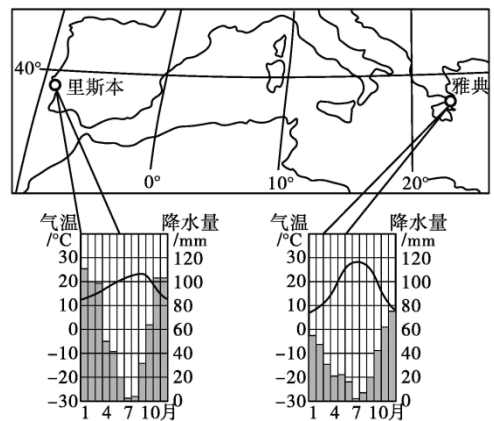
里斯本、雅典两地气候类型相同,但两地测得的气温和降水量呈现差异。完成第3-4题。

3. 两地的夏季温度有差异,其主要原因是里斯本 ()

- A. 受夏季盛行风影响
- B. 受沿岸暖流影响
- C. 受副热带高压影响
- D. 受沿岸寒流影响

4. 两地的年降水量有差异,其主要原因是雅典 ()

- A. 纬度位置较低
- B. 受西风影响较弱
- C. 地势相对较高
- D. 距地中海较近



5. (2020·四川成都七中月考)图1为某区域示意图,图2为甲地年内气温与降水量变化图。读图回答下列问题。

甲地最热月出现在5月,未出现在7月,试分析原因。(6分)

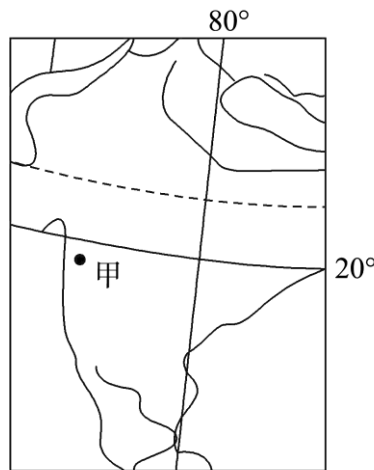


图1

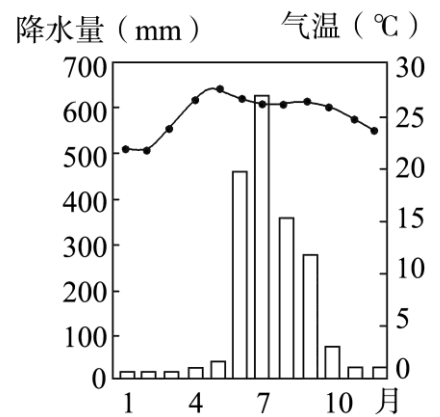


图2